

Part 1 (Comprehension unit 1 to 5)

Questions from units 1 to 5

1. Answer the following questions

- a. How did the philosophy of life benefit Adenauer's father? (unit 1)

- b. What did Konrad mean by "Go the last mile and enjoy it"? (unit 1)

- c. How did the man behave in the past that shows he regarded the earth's resources as illimitable? (unit 2)

- d. Why it has become necessary for the man to help nature in the pace of recycling? (unit 2)

- e. What was Galileo Galilei's greatest contribution to astronomy? (unit 3)

f. What was the importance of the Copernican Revolution in the study of astronomy? (unit 3)

g. Why do you think Parisians have come to cherish the Eiffel Tower? (unit 4)

h. Would you consider the Eiffel Tower to be “fully useless” or “superfluous”? Give your reasons? (unit 4)

i. How did Scarface find the chief’s son? Why do you think he had no trouble in freeing the boy? (unit 5)

j. Why did the Scarface want a coating of dirt on his moccasins? How did he manage it? (unit 5)

2. Write meaning of the following as used in the text of units 1 to 5.

a. Unit 1

- i. Rang constantly in my ears: _____
- ii. Earned a free conscience: _____
- iii. Be diverted: _____
- iv. My clear duty: _____
- v. Have never kept office hours: _____
- vi. Gave me an inner serenity: _____

b. Unit 2

- i. Illimitable: _____
- ii. Fostered: _____
- iii. Have to watch: _____
- iv. Anew: _____
- v. Working capital: _____
- vi. Intervene: _____
- vii. Transpire: _____

c. Unit 3

- i. Cradle of the mind: _____
- ii. Speculated: _____
- iii. Chromatic haze: _____
- iv. Fondly: _____
- v. Blind alleys: _____
- vi. Space probe: _____
- vii. Metaphysics: _____
- viii. Paradox: _____

d. Unit 4

- i. Was suffering from serious fatigue: _____
- ii. Made a bid to negotiate loan: _____

- iii. Resulting outcry: _____
- iv. Dire prediction: _____
- v. Doomsayers: _____

e. Unit 5

- i. Treat: _____
- ii. Lodge: _____
- iii. Sneaked: _____
- iv. Moccasins: _____
- v. Figure: _____

3. Write synonyms of the following words as used in the text of units 1 to 5

Words	Synonyms
i. Comforted	_____
ii. Contentment	_____
iii. Insisted	_____
iv. Earnestness	_____
v. Stratagem	_____
vi. Regretted	_____
vii. Ailing	_____
viii. Cherished	_____
ix. Contended	_____
x. Appalled	_____
xi. Disdain	_____
xii. Fascination	_____
xiii. Superfluous	_____
xiv. Tried	_____
xv. Enemies	_____
xvi. Faintly	_____
xvii. Caught	_____
xviii. Closer	_____

4. Tick the correct answer from the following taken from unit 1 to 5:

- i. We can say that Adenauer's father advice _____
- a. Influenced him only during his boyhood.
 - b. Influenced him only in his later life.
 - c. Had an upsetting effect on him.
 - d. Had lasting effect on him.
- ii. Adenauer never kept office hours because _____
- a. He was by nature a hard worker.
 - b. He found office hours inconvenient.
 - c. He was too busy to hear the clock strike six.
 - d. He knew that he could not go the last mile if he kept office hours.
- iii. In the middle ages people believed that the universe _____
- a. Consisted of Heaven, Earth & hell arranged in that descending order.
 - b. Was limitless.
 - c. Was close & tidy.
 - d. Had vanished into oblivion.
- iv. Newton established that _____
- a. Law of universal gravitation affects heavenly matter & earthly matter in the same way.
 - b. Metaphysics has a place in astronomy.
 - c. The solar system is a big machine.
 - d. There are no differences between heavenly bodies & earth.
- v. Parisians were _____ when they learned that the Eiffel Tower was in a poor condition.
- a. Indifferent
 - b. Annoyed
 - c. Amused
 - d. Worried & distressed.
- vi. In making observation, Jaean Giraudoux was being _____
- a. Humorous
 - b. Critical
 - c. Cynical
 - d. Sarcastic
- vii. Scarface was disliked by the tribe because _____
- a. They envied his nickname.
 - b. They thought his nickname matched his face.
 - c. They were offended by the ugly scar on his face.
 - d. They knew that he had obtained the scar from the fight.

viii. Scarface entered the enemies' village

- | | |
|--|---------------------------------------|
| a. In the evening | b. While the villagers were dancing |
| c. After the villagers had stopped dancing | d. When the villagers had gone to bed |

5. Use the following in your sentences (unit 5)

i. Tried

ii. Faintly

iii. Put

iv. Killed

v. Allowed

vi. Closer

Part 2 (Grammar 1 to 6)

Unit 1

6. State which part of speech is used in the following sentences:

i. We watched a soccer match yesterday. _____

ii. Their characters do not match. _____

- iii. There was a **live** telecast of the concert. _____
- iv. Peter is **never** late for school. _____
- v. Mrs. Lim worked so hard that **she** fell ill. _____
- vi. **Well**, did you have a good time? _____
- vii. There is no secret **between** us. _____

7. Pick out proper noun & common noun from the sentences below:

- i. Every Tuesday Mr. Han plays tennis at the club.
Proper Noun: _____
Common Noun: _____
- ii. We are used to rapid changes in the country.
Proper Noun: _____
Common Noun: _____
- iii. Susan is flying to Australia next week in a jumbo jet.
Proper Noun: _____
Common Noun: _____
- iv. This week's issue of "Time" focuses on the energy crisis.
Proper Noun: _____
Common Noun: _____
- v. Our geography teacher took us on an excursion to Pulau Ubin last month.
Proper Noun: _____
Common Noun: _____

8. State the parts of speech in the sentence below.

Example:

He puts more care into his work nowadays.

Puts: verb

More: adjective

Care: noun

Into: preposition

Exercise

- i. She gave her doll away.

- ii. Look carefully before you cross the road.

- iii. These students do neat and careful work.

- iv. Goodness! Haven't you finished yet.

- v. Several countries are troubled by economic and social problems.

Unit 2

9. Insert the plural form of nouns in the bracket.

- i. We need several _____ of _____. (box , match)
- ii. Their _____ are infested with _____. (house , mouse)
- iii. _____ can spread harmful _____. (Fly , disease)
- iv. The _____ gather _____ and make them into jam.
(woman , strawberry)
- v. Please iron these _____ and _____ for me.
(hanker-chief , shirt)

Unit 3

10. Insert correct personal pro-noun in the following sentences.

- i. My sister and _____ always play together.
- ii. We got the news from _____.
- iii. _____ and her friends will sleep in one room.
- iv. We dislike him as much as _____ do.
- v. Our aunt took _____ to the botanical gardens.

11. Fill in the blank with correct possessive pro-noun or adjective

- i. I feel hot. I am taking off _____ jacket.
- ii. This book belongs to hers. It is _____.
- iii. I have mislaid _____ pen. May I borrow _____?
- iv. The dog wags _____ tail when it sees me.
- v. The fault was _____. She hit the ball too high.

Unit 5

12. Fill in the blank with who, whose, whom, what or which.

- i. _____ is this school bag?
- ii. _____ tipped this letter?
- iii. _____ did you approach for help?
- iv. _____ made the cake?
- v. _____ does he do?
- vi. _____ door leads to the kitchen?
- vii. _____ woke you up?

- viii. _____ is the leader?
- ix. _____ do you prefer, the green dress or the blue?
- x. _____ is responsible for this?

Unit 6

13. Use correct articles in the sentences. Mark (X) where article is not required.

- i. _____ umbrella
- ii. _____ colour
- iii. There was _____ fire in the village last night. The firemen took four hours to put out _____ fire.
- iv. _____ active child is _____ healthy child.
- v. Arshad wants to become a member of _____ National Library.
- vi. She selected _____ a big watermelon and _____ pomelo and put _____ fruits into her basket.
- vii. There are _____ lions in _____ zoo.
- viii. Everyone loves _____ holiday by _____ sea.
- ix. We send _____ letters overseas by _____ air
- x. Please give me _____ honest opinion on _____ subject of _____ technical education.

Part 3 (Vocabulary & usage unit 1 to 5)

14. Use the following words as adjective in a sentence

- i. Overhead

- ii. Street

- iii. Open

iv. Pedestrian

v. Even

vi. Fruit

15. Use the following words as noun in a sentence.

i. Shade

ii. Smell

iii. Pass

iv. Feel

v. Look

vi. Steer

16. Use the correct words given in the bracket

- i. Please _____ them to stand away from the fire. (ask , call)
- ii. Jane _____ her dog away from the rubbish heap. (asked , called)
- iii. Did you _____ her to buy this? (ask , call)
- iv. The chairman _____ the meeting to order. (asked , called)
- v. Have you _____ him to come? (asked , called)

17. Fill in the blanks with correct preposition also not the usage of ask & call

- i. The principal asked me _____ when he saw me standing outside his office.
- ii. He told me not to ask _____ trouble but to leave the dog alone.
- iii. Will you call _____ house again and give him this parcel on your way home?
- iv. The teacher called _____ the books she had lent to her students.
- v. This expedition calls _____ endurance and courage.

18. Use the following words as verbs in sentence

i. Back

ii. Seat

iii. Field

iv. Paw

v. Milk

vi. Sun

19. Use the following compound words in sentences

i. Carload

ii. Countryside

iii. Housecoat

iv. Nightmare

v. Catchword

vi. Sun

20. Choose the correct words

- i. I asked Ali to _____ his cassette recorder here. (bring , take)
- ii. He told me to _____ the cup away. (bring , take)
- iii. She _____ two friends home for dinner last evening. (Brought , took)
- iv. After their quarrel, he _____ back everything he had given her.
(Brought , took)

21. Fill in the blanks with correct preposition also not the usage of take & bring

- i. He takes _____ his father in the way he walks.
- ii. She refuses to take _____ anything she had said during the quarrel.
- iii. We took _____ what she said and read it back to her.
- iv. He was badly taken _____ by the man who sold him the second hand car.
- v. They have brought _____ their children well.
- vi. Use this word in a sentence that brings _____ its meaning.

22. Form a noun from the verbs and use the nouns in sentences

- i. Marry
Noun: _____
Sentence: _____

- ii. Speak
Noun: _____
Sentence: _____

- iii. Arrive
Noun: _____
Sentence: _____

- iv. Allow
Noun: _____
Sentence: _____

v. Recognize

Noun: _____

Sentence: _____

23. Form an adjective from the noun and use the adjectives in sentences

i. Pain

Adjective: _____

Sentence: _____

ii. Fight

Adjective: _____

Sentence: _____

iii. Courage

Adjective: _____

Sentence: _____

iv. Honesty

Adjective: _____

Sentence: _____

v. Moment

Adjective: _____

Sentence: _____

24. Give antonyms for the following and use both words in sentences

i. Friendly

Antonym: _____

Sentence 1: _____

Sentence 2: _____

ii. Clean

Antonym: _____

Sentence 1: _____

Sentence 2: _____

iii. Quickly

Antonym: _____

Sentence 1: _____

Sentence 2: _____

iv. Relieve

Antonym: _____

Sentence 1: _____

Sentence 2: _____

v. Often

Antonym: _____

Sentence 1: _____

Sentence 2: _____

25. Fill in the blanks with correct association word.

- i. Ear is to hearing as eye is to _____. (scene, sight, look)
- ii. Nose is to smell as tongue is to _____. (taste, sweetness, eating)
- iii. Toe is to foot as finger is to _____. (thumb, wrist, hand)
- iv. Brain is to head as lung is to _____. (chest, abdomen, body)
- v. Walking is to leg as _____ is to wings. (fanning, flying, preening)
- vi. Foot is to man as _____ is to dog. (hoof, claw, paw)

26. Fill in the blank with correct form of word.

- i. We tried not to _____ our younger brother.
(excite, excited, exciting, excitable)
- ii. He had been involved in a serious _____.
(accident, accidental, accidentally, accident)
- iii. The wounds are slowly _____.
(heal, healed, healing, health)
- iv. She treats him with great _____.
(tender, tenderly, tenderizing, tenderness)
- v. Father spends more _____ with him now.
(time, timed, timely, times)
- vi. It runs very fast and _____ on his bed.
(smoothes, smoothing, smoothly, smoothness)

27. Give two suitable adjectives for the given words.

- i. Island _____ , _____
- ii. Cove _____ , _____
- iii. Sea _____ , _____
- iv. Tribe _____ , _____
- v. Waves _____ , _____
- vi. Beads _____ , _____

vii. Neck _____ , _____

28. Give antonyms for the following words:

- i. Deep _____
- ii. Heavy _____
- iii. Back _____
- iv. Short _____
- v. Sharpen _____
- vi. Dead _____
- vii. Friend _____

29. Use correct word from the bracket.

- i. She _____ her children a story. (said , told)
- ii. She _____ that she would not be home for dinner. (said , told)
- iii. He always _____ that he is a lucky man. (says , tells)
- iv. He never _____ the truth. (says , tells)
- v. He said that he had been _____ of his watch. (stole , robbed)
- vi. He told me that his watch had been _____. (stolen , robbed)
- vii. The man who _____ his watch has admitted his guilt. (stole , robbed)
- viii. May I _____ your atlas for a while? (lend , borrow)
- ix. I will _____ it to you on one condition. (lend , borrow)
- x. He _____ two dollars from me yesterday. (lent , borrowed)
- xi. Has he returned the money you _____ him? (lent , borrowed)

**BAHRIA COLLEGE
ISLAMABAD**

WORK SHEETS

GENERAL SCIENCE

CLASS VI

**MISS IQRA AKRAM
MRS GHAZALA SEHAR**

FIRST TERM SYLLABUS

UNIT 3: Time, Rate and Speed

UNIT 7: Living in our changing world

UNIT 8: Manufacturing- From Raw material to useful products

UNIT 24: Smoking Kills!!

Note: fill these all worksheet after reading lessons mentioned above and learn by heart.

UNIT 3: Time, Rate and Speed

SECTION A: Multiple- Choice questions

Choose the most suitable answer and write the corresponding letter (a, b, c or d) in the brackets provided.

- 1. The S.I unit for time is:**
a. Meter b. Newton c. second d. mass
- 2. Which heavenly body the Gregorian calendar is based on?**
a. Sun & moon b. sun & star c. star & moon d. only sun
- 3. Grace rides her bike with a constant speed of 8 km/h. How long will she take to travel a distance of 4 kilometers?**
a. 10 minutes b. 20 minutes c. 30 minutes d. 40 minutes

4. An airplane flies with a constant speed of 720 km/h. How far can it travel in 2 1/2 hours?

- a. 1600 km b. 1800 km c. 2000 km d. 2200 km

5. What are the readings shown by these stopwatches?



_____ min _____ sec

- a. 2 min 43.1 sec b. 2 min 44 sec c. 2 min 45 sec d. 2 min 46 sec

6. Sidra left his house at 4.25 a.m. and reached other town at 07.05 pm. How long did her whole journey last?

- a. 11 h 40 min b. 12 h 40 min c. 13 h 40 min d. 14 h 40 min

7. A train moving with uniform velocity(v) of 10m/s for 10s(t). Find the distance travelled by it. Hint: $S = vt$

- a. 1 m b. 10 m c. 100m d. 1000 m

8. The most common unit for measuring speeds of car is the _____.

- a. m/s b. m/h c. km/s d. Km/h

9. The volume of water flowing through a pipe every second is known as _____.

- a. Rate of volume b. speed c. power d. water consumption

10.If a cyclist travels at a speed of 9 km/h, what distance will he cover in 30 s? (Hint: $s=d/t$)

- a. 7.5 m b. 15 m c. 75 m d. 150 m

QNO2: Complete the following table.

QUANTITIES	FORMULA
Speed	
Power	
Mass	
Volume	
Acceleration	
Time	

QNO3: Fill in the blanks

1. _____ instrument is commonly used in laboratory for measuring time.
2. Rate is a _____ of two quantities.
3. The _____ was first made by Egyptians in the year 800 B.C.
4. The calendar we commonly use now is called _____.
5. The S.I unit for speed is _____.

QNO4: Short –answer questions

1. Explain the principle on which modern electronic watches are based.

2. Complete these:

(a) 100 millimeter (mm) = cm.

(b) 180 seconds = minutes

(c) 730 days = Years

3. What do you know about sundial?

4. Write difference between instantaneous speed and average speed?

QNO5: Brainstorming question

1. Calculate the volume of the objects given in the table with the help of scale or measuring tape. Then write down results in appropriate column. **HINT: volume = length \times width \times height**

OBJECT	LENGTH	WIDTH	HEIGHT	VOLUME
Book				
Pencil box				
Door				
Lunch box				
Your favorite thing				

2. The distance from Karachi to Nawabshah is 250 km. A bus takes 5 hours to travel from Karachi to Nawabshah. At what speed does it travel?

3. How stopwatch can measure accurate reading?

4. John is a runner. He runs the 100 m in 10.6 s. what speed did he travel at?

5. A girl cycles for 3hrs at a speed of 40 km/h. what distance she travel?

=====

UNIT 7: Living in our changing world




SECTION A: Multiple- Choice questions

Choose the most suitable answer and write the corresponding letter (a, b, c or d) in the brackets provided.

1. Chemical changes in matter occur due to
a. Heat b. light c. electricity d. all of the above
2. Heat can change the _____ state of matter.
a. Physical b. chemical c. both a&b d. none of the above
3. When an object is heated its expand i.e. its volume _____
a. Decreases b. increases c. not changed d.all of the above
4. _____ is the combination of a substance with oxygen when it is heated.
a. Expansion b. sublimation c. combustion d. decomposition
5. The photo cell in the solar – powered calculator changes _____
a. Light into heat b. light into electricity
c. heat into light d. electricity into light
6. _____ is the process whereby a substance is split into two or more simpler substances.
a. Expansion b. sublimation c. combustion d. decomposition
7. Which of the following may occur when electricity interacts with matter?
a. Conduction b. photosynthesis c. sublimation d. rise in temperature
8. Light produces _____ changes on photographic film.
a. Physical b. chemical c. neutral d. both a & c
9. Which of the following changes in the state of matter involves giving out heat?
a. Melting b. sublimation c. condensation d. boiling
10. _____ reaction is a process in which substances are changed to form new substances.

- a. neutralization b. physical c. sublimation d. chemical

QNO2: A table for children to discuss and record what they think happens to different materials (water, chocolate etc.) when they are heated and cooled down. Children can write and draw what they think happens. Can be changed by adding/ deleting rows from the table or adding you own materials.

MATERIAL	What happens when it is heated up? Also draw a picture.	What happens when it is cooled down? Also draw a picture.
Water 		
Chocolate 		
Thermometer (level of mercury) 		
Select your own		

Select your own		

QNO3: Fill in the blanks.

(1) Iron + Sulphur =

(2) Water + carbon dioxide =

(3) Water is decomposed into _____ and _____ gas when electricity passes through it

QNO4: write name of process:

(1) Change in solid to liquid: _____

(2) Change in liquid to gas: _____

(3) Change in solid to gas: _____

(4) Change in gas to liquid: _____

(5) Change in liquid to solid: _____

(6) Change in gas to solid: _____

QNO5: Answer the following questions:

(1) What is a chemical reaction? Give an example of a chemical reaction.

(2) Define the following term and gives example of each.

(1) Combination

(2) Decomposition

(3) Explain why mixing unknown substances together is dangerous?

(4) Write the process when electricity passing through copper sulphate solution. Also draw diagram.

UNIT 8: Manufacturing- From Raw material to useful products

SECTION A: Multiple- Choice questions

Choose the most suitable answer and write the corresponding letter (a, b, c or d) in the brackets provided.

1. _____ is the conversion of raw material into useful products by chemical reaction.
a. Processing b. manufacturing c. splitting d. decomposition
2. Metals are usually extracted from _____.
a. Air b. water c. rocks d. fossil fuels
3. Sand is used as a raw material for making _____.
a. Leather b. fibers c. cosmetics d. glass
4. What gas is given out when a bottle of fizzy drink is opened?
a. Carbon dioxide b. oxygen c. nitrogen d. helium
5. Which of the following is a raw material used in the manufacture of nylon?
a. Petroleum b. plants c. ammonia d. clay
6. The type of plastics that is used to insulate wires is _____.
a. Bakelite b. polythene c. polyvinylchloride d. polystyrene
7. Which of the following is not a raw material used in the manufacture of cement?
a. Clay b. water c. limestone d. steel
8. _____ from the air is used for filling electric bulbs.
a. Oxygen b. nitrogen c. argon d. carbon dioxide

SECTION B: Short – answer questions

1. Why was helium used to fill airships?

2. Enlist the raw material and products obtained from

1. Crude oil

2. Natural gas

3. Crude oil

3. Define recycling process and give example.

4. Name five raw materials.

5. Enlist those metals which can be extracted from mineral rocks.

QNO3: Fill in the blanks.

1. Limestone + clay + water = _____.

2. Copper is used for _____.

3. Cups, bowls, toys, computer disks are the products of _____.

4. _____ is used as a fuel in blast furnaces for making metals.

QNO4: Complete the following table.

ANIMALS	RAW MATERIALS	USEFUL PRODUCTS
Hen		
Sheep		
Pig		
Duck		
Goat		
Whale		

UNIT 24: Smoking Kills!!

SECTION A: Multiple- Choice questions

Choose the most suitable answer and write the corresponding letter (a, b, c or d) in the brackets provided.

1. The substance in cigarette smoke that can cause cancer is _____.
a. Nicotine b. carbon monoxide c. tar d. carcinogen
2. Which substance in tobacco smoke can reduce the amount of oxygen available to body cells?
a. Tar b. carbon monoxide c. nicotine d. irritants
3. Cigarettes are made of dried _____.
a. Tobacco leaves b. mango leaves c. plum d. peepal
4. Which of the following gases in tobacco smoke is poisonous?
a. Carbon dioxide b. carbon monoxide c. oxygen d. nitrogen
5. Nicotine is a _____ addictive drug.
a. Non b. highly c. moderate d. low
6. What types of deposits on the blood vessels block the flow of blood in the body?
a. Tar b. nicotine c. carbon particles d. fats
7. Inflammation of the air tubes in the lungs is called _____.
a. Bronchitis b. ulcer c. gangrene d. lung cancer
8. Which of the following disease is a smoker more likely to get than a non-smoker?
a. Beri-Beri b. Bronchitis c. Scurvy d. AIDS
9. _____ smokers are those who inhale side stream tobacco smoke.
a. Active b. passive c. illegal d. young

10.It is illegal to buy cigarettes for those _____

- a. Under 18 b. over 18 c. at age of 18 d. over 18 but under 21

QNO2: Short questions- answer

(1)List Five main chemicals in tobacco smoke which harm the body.

(2) what are some of the effects of irritants on a smoker?

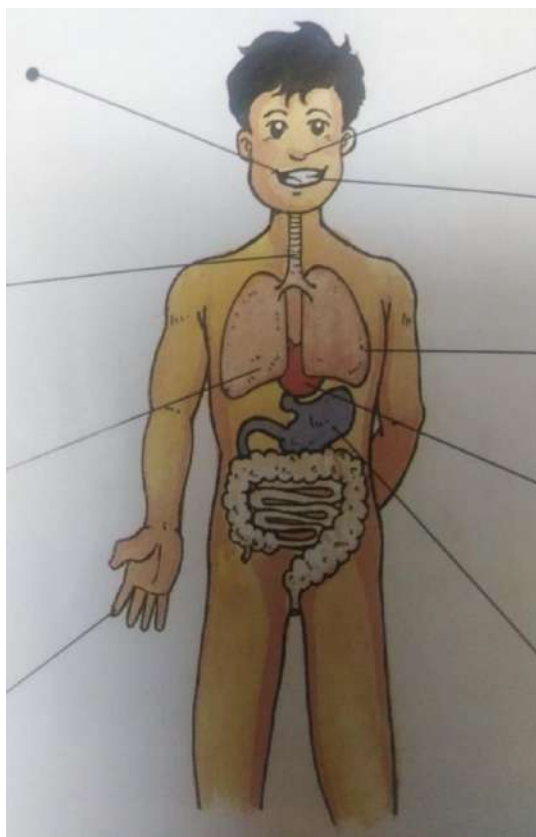
(3)What does tobacco smoke contain?

QNO4: Complete this table.

CHEMICALS	HARMFUL EFFECTS
NICOTINE	
TAR	
CARBON MONOXIDE	


CARCINOGENS	
IRRITANTS	

QNO5: Mention the effects of smoking on the parts of body.



=====

CHECKED BY: _____.



WORKSHEET MATHEMATICS (CLASS VI)

Chapter #1 (PRIMES, HIGHEST AND LOWEST COMMON FACTORS)

1. The number 91 is
a) Composite b) even c) square d) prime
2. The highest common factor of 18 and 30 is
a) 3 b) 6 c) 2 d) 9
3. Value of $\sqrt{324}$ by prime factorization is
a) 18 b) 9 c) 20 d) 36
4. L.C.M of 4 and 6 is
a) 2 b) 4 c) 3 d) 12
5. Neither prime nor composite numbers are
a) 6 and 10 b) 2 and 3
c) 0 and 1 d) 4 and 8
6. Estimate the value of $\sqrt{63}$
a) 8 b) 6 c) 9 d) 10
7. Product of the prime factors of 840
a) $2^2 \times 3^2 \times 5$ b) $3 \times 5 \times 7$
c) $2 \times 3 \times 5 \times 7$ d) $2^2 \times 5^2 \times 3$
8. $2 + \sqrt{25}$
a) 27 b) 7 c) 23 d) 50

9. Prime numbers differ by _____ are called twin primes

a) 2

b) 3

c) 4

d) 5

10. If p and q are whole numbers such that $p \times q = 13$, then the value of $p+q =$

a) 4

b) 13

c) 14

d) 26

11. The perimeter of square whose area is 225cm^2

a) 70 cm

b) 60 cm

c) 100 cm

d) 50 cm

CHAPTER # 3

Approximation and Estimation

1. Round off 273.1 to the nearest 10.
a) 271 b) 272 c) 273 d) 270
2. Correct 96.482 to 1 decimal place.
a) 96.4 b) 96.3 c) 96.0 d) 96.5
3. Correct 90.59 to the whole number
a) 90.6 b) 90.5 c) 90 d) 91
4. How many significant figures are in 3000?
a) 2 b) 1 c) 3 d) a, b and c
5. Round off 0.9999 to 3 significant figure
a) 1.00 b) 0.999 c) 99.9 d) 3
6. How many significant figures are in 32.047?
a) 4 b) 5 c) 3 d) 2
7. Round off 3 409 725 to the nearest 1000
a) 3 409 730 b) 3 409 700
c) 3 410 000 d) 3 410 000
8. How many significant figures are in 7250080
a) 7 b) 4 c) 6 d) 3
9. Round off 6479.952 to the nearest 100.
a) 6500 b) 6000 c) 6480.0 d) 6400
10. Round off 845km to nearest 100km
a) 840km b) 850km c) 900km d) 800km

BAHRIA MODEL COLLEGE, E-8, ISLAMABAD.

WEEKLY WORK SCHEDULE (Week -1)

CLASS: VI

SUBJECT: SOCIAL STUDIES

CHAPTER # 1 : Our country in the World.

DATE	DAY	TOPICS/ TASKS TO BE COMPLETED
30-3-2020	MONDAY	-Reading of page no. 1 and 2 -Written work - Q-No: 1 , 2 (see guideline)
31-3-2020	TUESDAY	-Reading of page no. 3 and 4 -Written work - Q-No: 3 (see guideline)
01-4-2020	WEDNESDAY	-Reading of page no. 5 -Written work - Q-No: 4 (see guideline)
02-4-2020	THURSDAY	-Reading of page no. 6 , 7 ,8. (five times)
03-4-2020	FRIDAY	-Written work - Q-No: 5 (see guideline)

BAHRIA MODEL COLLEGE, E-8 , ISLAMABAD.

GUIDELINE (Week -1)

CLASS: VI

SUBJECT: SOCIAL STUDIES

CHAPTER # 1 : Our country in the World.

Q:1- Name Muslim countries of Asia and Africa. (At least ten)

→● See map on page no. 1.

Muslim countries in Asia:

1- -----

2- -----

.

.

Muslim countries in Africa:

1- -----

2- -----

3- -----

Q:2- Name the passes through the mountains which connects Pakistan to Afghanistan, Iran and China.

→● See page no- 2 , (line 7-8)

Q:3- What is meant by a relief map?

→● See page no-3 (line 1-3)

Q:4- Which great mountain ranges are located in the North of subcontinent?

→● See page no-5 , (line 3-8)

Q:5- Describe these geographical terms: (draw diagrams also)

Hills , Plateaus , Lakes , Rivers , Estuary , Delta. (page no- 6,7,8)

BAHRIA MODEL COLLEGE, E-8 , ISLAMABAD.

(Week - 2 and 3)

CLASS: VI

SUBJECT: SOCIAL STUDIES

CHAPTER # 2 : Weather and Climate

***** Reading of Chapter (Pages: 9,10,11)**

***** Written work:**

Q:1- How ocean currents affect the temperature of any place? Explain with examples.

→● See page no. 10. (d)- ocean currents.

Q:2- Briefly describe the effects of direction of winds on climate.

→● See page no-11. (g)- direction of winds (line 1-6)

Q:3- What differences would you expect to find between the home, dress and food of a family living in Gilgit and that of one in Karachi?

→● Student's task.

Q:4- Complete these statements:

- 1) - Weather is the climatic conditions_____ .
- 2) - Climate is the average of the weather condition over a _____ .
- 3) - The closer we are to the equator, the warmer and _____ .
- 4) -Mount Kilimanjaro is almost right on _____ .

5) -The World's average rainfall is between _____ .

6) - When the air pressure is high, the weather is usually _____
_____ .

CHAPTER # 3 : Winds and Cyclones

***** Reading of Chapter (Pages: 12,13,14)**

***** Written work:**

Q:1- Draw a diagram of cyclone and anticyclone. Especially mention the direction of wind.

→● See page no. 13.

Q:2- Briefly describe a “ Tornado “.

→● See page no-14. (line 1- 4)

Q:3- Exercise: Question no- 2

سبق نمبر

معروضی سوالات:

- ۱۔ حمد کسے کہتے ہیں؟
- ۲۔ حمد کا مرکزی خیال لکھئے۔
- ۳۔ چھوٹی بڑی اشیاء سب کس نے بنائی ہیں؟
- ۱۔ اللہ تعالیٰ نے ۲۔ انسان نے ۳۔ خود بخود بن گئیں ۴۔ قدرت نے
- ۴۔ کس چیز سے نہیں ہے کوئی خالی
- ۱۔ حکمت ۲۔ دانائی ۳۔ روشنی ۴۔ رونق
- ۵۔ ننھی کلیاں کیا کر رہی ہیں؟
- ۱۔ ہنس رہی ہیں ۲۔ خوشبو بکھیر رہی ہیں ۳۔ چنگ رہی ہیں ۴۔ کھیل رہی ہیں
- ۶۔ کون درختوں پر پھدک رہا ہے؟
- ۱۔ کوئل ۲۔ کوئے ۳۔ چڑیاں ۴۔ شہد کی مکھیاں
- ۷۔ اللہ کی قدرت سے کیا مہکے ہے؟
- ۱۔ پھول ۲۔ بچے ۳۔ باغ ۴۔ پودے
- ۸۔ دن کو کیا چیز بخشی گئی ہے؟
- ۱۔ روشنی ۲۔ صفائی ۳۔ خوبصورتی ۴۔ رونق
- ۹۔ اللہ تعالیٰ نے رات کو کس چیز سے بھر دیا؟
- ۱۔ اندھیرے سے ۲۔ تاروں سے ۳۔ تنہائی سے ۴۔ چاند سے

۱۰۔ مٹی سے کس نے باغ اگائے ہیں؟

۱۔ مالی ۲۔ خدا ۳۔ درخت ۴۔ مزدور

۱۱۔ میوے سے کیا چیز لدی ہوئی ہے؟

۱۔ بالی ۲۔ پودا ۳۔ ڈالی ۴۔ ٹہنی

۱۲۔ اللہ نے ہر شے کیا بنائی ہے؟

۱۔ خوبصورت ۲۔ عجیب و غریب ۳۔ نادر ۴۔ انمول

۱۳۔ بے شک اللہ تعالیٰ کیا ہے؟

۱۔ رحمان و رحیم ۲۔ غفور و کریم ۳۔ قوی و قادر ۴۔ کریم و حلیم

۱۴۔ حمد کس شاعر نے لکھی ہے؟

۱۔ مرزا غالب ۲۔ علامہ اقبال ۳۔ اسماعیل میرٹھی ۴۔ ذوق

۱۵۔ اسم نکرہ کس کو کہتے ہیں؟

۱۔ اسم عام ۲۔ اسم خاص ۳۔ اسم ضمیر ۴۔ اسم جامد

۱۶۔ اگانا قواعد کی رو سے کیا ہے؟

۱۔ فعل ۲۔ فاعل ۳۔ مصدر ۴۔ حرف

۱۷۔ لفظ ”خدا“ حمد میں قواعد کی رو سے کیا ہے؟

۱۔ فعل مستقبل ۲۔ فعل حال ۳۔ اسم معرفہ ۴۔ اسم نکرہ

۱۸۔ درخت قواعد کی رو سے کیا ہے؟

۱۔ اسم ذات ۲۔ اسم معرفہ ۳۔ اسم مصدر ۴۔ ماضی استمراری

سبق نمبر ۲

معروضی سوالات:

۱۔ نعت میں کس کی تعریف بیان کی جاتی ہے؟

۱۔ اللہ کی ۲۔ رسول پاک ﷺ کی ۳۔ حضرت موسیٰ کی ۳۔ حضرت ابراہیم کی

۲۔ رحمت کا لقب کس پیغمبر کے لئے ہے؟

۱۔ حضرت موسیٰ ۲۔ حضرت عیسیٰ ۳۔ رسول پاک ﷺ ۴۔ حضرت اسماعیل

۳۔ رسول پاک ﷺ نے کن کی مرادیں پوری کیں؟

۱۔ فقیروں کی ۲۔ یتیموں کی ۳۔ مسکینوں کی ۴۔ غریبوں کی

۴۔ آپؐ مصیبت میں کن کے کام آتے تھے؟

۱۔ صرف رشتے داروں کے ۲۔ صرف گھر والوں کے ۳۔ صرف اپنوں کے ۴۔ غیروں کے بھی

۵۔ آپؐ کو فقیروں کا کیا کہا جاتا ہے؟

۱۔ پناہ دینے والا ۲۔ گھر دینے والا ۳۔ ملجا ۴۔ ہم درد

۶۔ آپؐ کو یتیموں کا کیا کہا جاتا ہے؟

۱۔ غم گسار ۲۔ مددگار ۳۔ ہم درد ۴۔ والی

۷۔ آپؐ غلاموں کے لئے کیا ہیں؟

۱۔ آقا ۲۔ مالک ۳۔ مولیٰ ۴۔ حاکم

۸۔ آپؐ خطا کار کو کیا کہا کرتے تھے؟

۱۔ غصہ کرتے تھے ۲۔ ڈانٹتے تھے ۳۔ خفا ہو جاتے تھے ۴۔ درگزر کرتے تھے

۹۔ آپ نے کس کے دل میں گھر کیا؟

۱۔ برے کام کرنے والے کے ۲۔ برادیکھنے والے کے ۳۔ بداندیش کے ۴۔ بدکلام کے

۱۰۔ آپ نے کس کو زیروزبر کیا؟

۱۔ براچاہنے والے کو ۲۔ مفاسد کو ۳۔ حاسد کو ۴۔ ظالم کو

۱۱۔ آپ نے قابل کو کیا کیا؟

۱۔ شکر کیا ۲۔ الگ الگ کیا ۳۔ اکٹھے کر دیا ۴۔ ملا دیا

۱۲۔ آپ غار حرا سے اتر کر کہاں آئے؟

۱۔ خاندان والوں کے پاس ۲۔ رشتہ داروں کے پاس ۳۔ قوم کے پاس ۴۔ گھر والوں کے پاس

۱۳۔ جب آپ غار حرا سے آئے تو اپنے ساتھ کیا لے کر آئے؟

۱۔ قیمتی پتھر ۲۔ نسخہ کیمیا ۳۔ نسخہ نجات ۴۔ فرشتوں کی جماعت

۱۴۔ آپ نے مس خام کو کیا بنایا؟

۱۔ سونا ۲۔ تانبا ۳۔ ہیرا ۴۔ کندن

۱۵۔ عرب پر کب سے چھایا ہوا تھا؟

۱۔ قرونوں سے ۲۔ کچھ سالوں سے ۳۔ کچھ مہینوں سے ۴۔ جب سے دنیا بنی ہے

۱۶۔ آپ نے کس کی کایا پلٹ دی؟

۱۔ کفار کی ۲۔ عرب کی ۳۔ ترک کی ۴۔ اسلامی ممالک کی

۱۷۔ آپ کے آنے سے کس چیز کا ڈرنہ رہا؟

۱۔ اندھیرے کا ۲۔ ظالم کا ۳۔ موج بلا کا ۴۔ جن و بلا کا

۱۸۔ فقیر کا متضاد کیا ہوگا؟

۱۔ بادشاہ ۲۔ امیر ۳۔ سلطان ۴۔ شہزادہ

۱۹۔ یتیم کی جمع کیا ہوگی؟

۱۔ یتامیٰ ۲۔ یتیموں ۳۔ یتامیٰ

۲۰۔ نعت کس مشہور شاعر نے لکھی ہے؟

۱۔ الطاف حسین حالی ۲۔ مرزا غالب ۳۔ اقبال ۴۔ مظفر وارثی

سبق نمبر ۳

سوالات کے جواب دیجئے۔

- ۱۔ مادرملت کس کو کہا جاتا ہے؟
(جواب)۔ محترمہ فاطمہ جناح کو مادرملت کہا جاتا ہے۔
- ۲۔ مادرملت کے کیا معنی ہیں؟
(جواب)۔ مادرملت کے معنی ہیں۔ قوم کی ماں۔
- ۳۔ فاطمہ جناح کے والد کا انتقال ہوا تو فاطمہ جناح کی کیا عمر تھی؟
(جواب)۔ جب فاطمہ جناح کے والد کا انتقال ہوا تو فاطمہ جناح کی عمر آٹھ برس تھی۔
- ۴۔ فاطمہ جناح نے اپنی ساری زندگی کس کے لئے وقف کر دی؟
(جواب)۔ فاطمہ جناح نے اپنی ساری زندگی قومی مفادات کے لئے وقف کر دی۔
- ۵۔ فاطمہ جناح نے خواتین کو عملی سیاست میں لانے کے لئے کون سا کردار ادا کیا؟
(جواب)۔ فاطمہ جناح نے خواتین کو عملی سیاست میں لانے کے لئے بنیادی کردار ادا کیا۔
- ۶۔ فاطمہ جناح عوامی جلسوں میں کس کے شانہ بشانہ تھیں؟
(جواب)۔ فاطمہ جناح عوامی جلسوں میں اپنے بھائی قائد اعظم کے شانہ بشانہ تھیں۔

معروضی سوالات:

- ۱۔ فاطمہ جناح کو وطن کے حوالے سے کیا کہا جاتا ہے؟
- ۱۔ مادرملت ۲۔ قائد اعظم کی لاڈلی بہن ۳۔ بہترین سیاست دان ۴۔ خواتین کی ہمدرد
- ۲۔ فاطمہ جناح قائد اعظم سے کتنے سال چھوٹی تھیں؟

۱۔ سولہ سال ۲۔ سترہ سال ۳۔ اٹھارہ سال ۴۔ انیس سال

۳۔ جب قائد اعظم کے والدین کا انتقال ہوا تو قائد اعظم بمبئی میں کیا کر رہے تھے؟

۱۔ علم حاصل کر رہے تھے۔ ۲۔ وکالت کر رہے تھے ۳۔ ڈاکٹری کر رہے تھے

۴۔ والدین کی وفات کے بعد فاطمہ جناح کہاں چلی گئیں؟

۱۔ لکھنؤ ۲۔ کراچی ۳۔ بمبئی ۴۔ دلی

۵۔ قائد اعظم کے پاس آ کر فاطمہ جناح نے کس سکول میں داخلہ لیا؟

۱۔ گورنمنٹ سکول ۲۔ پرائیویٹ سکول ۳۔ سلائی سکول ۴۔ کانوینٹ میں

۶۔ فاطمہ جناح نے کس سن میں میٹرک کا امتحان پاس کیا؟

۱۔ ۱۹۰۹ ۲۔ ۱۹۱۰ ۳۔ ۱۹۱۱ ۴۔ ۱۹۱۲

۷۔ میٹرک کے بعد فاطمہ جناح نے داخلہ لیا۔

۱۔ پری میڈیکل میں ۲۔ پری انجینئرنگ میں ۳۔ وکالت میں ۴۔ سینئر کیمرج

۸۔ ۱۹۲۲ میں فاطمہ جناح نے کس کا امتحان پاس کیا؟

۱۔ دل کے ڈاکٹر کا ۲۔ آنکھوں کے ڈاکٹر کا ۳۔ ڈینٹل سرجن ۴۔ سماجیات کا

۹۔ فاطمہ جناح نے کہاں ہسپتال کھولا؟

۱۔ لاہور ۲۔ لکھنؤ ۳۔ بمبئی ۴۔ الہ آباد

۱۰۔ قائد اعظم کی بیگم کا کیا نام تھا؟

۱۔ فریدہ بائی ۲۔ لکشمی بائی ۳۔ سیتا بھائی ۴۔ رتی بائی

۱۱۔ فاطمہ جناح قائد اعظم کے ساتھ سیاست میں کس حیثیت سے تھیں؟

۱۔ صرف چھوٹی بہن ۲۔ سیکرٹری ۳۔ معاون و مشیر ۴۔ ساتھی

۱۲۔ فاطمہ جناح قائد اعظم کے ساتھ گول میز کانفرنس میں شرکت کے لئے کہاں گئیں؟

۱۔ پیرس ۲۔ زیورخ ۳۔ کراچی ۴۔ لندن

۱۳۔ فاطمہ جناح قائد اعظم کا ہاتھ بٹاتی تھیں۔

۱۔ گھر کے کاموں میں ۲۔ دفتر کے کاموں میں ۳۔ وکالت کے کاموں میں

۴۔ سرکاری کاموں میں

۱۴۔ فاطمہ جناح کی کون سی خدمات سے انکار ممکن نہیں۔

۱۔ خواتین کی عملی سیاست ۲۔ تعلیم نسواں ۳۔ خواتین کونسل ۴۔ خواتین کی سیاسی فکر و نظر

۱۵۔ فاطمہ جناح کس کی سرپرست تھیں؟

۱۔ پنوا ۲۔ اپوا ۳۔ گرلز گائیڈ ۴۔ گرلز سکاؤٹ

۱۶۔ کن کی خدمات کے لئے فاطمہ جناح کی خدمات آب زر سے لکھنے کے قابل ہیں؟

۱۔ مہاجرین کی آباد کاری ۲۔ کشمیری مہاجرین ۳۔ مہاجرین خواتین ۴۔ بنگالی خواتین

۱۷۔ فاطمہ جناح نے وفات پائی؟

۱۔ ۹ جون ۱۹۶۷ ۲۔ ۹ جولائی ۱۹۶۷ ۳۔ ۹ اگست ۱۹۶۸ ۴۔ ۹ ستمبر ۱۹۶۸

WORKSHEET
01
SUBJECT: COMPUTER
FOR
CLASS VI
MRS NAHEEDA SHFIQUE

INTRODUCTION TO COMPUTERS

Q1: Identify the devices according to their definition:

1) These devices are used to enter data into a computer.

- (a) Input devices
- (b) Output devices
- (c) Storage devices
- (d) Processing devices

2) These devices provide the output ,the results of an operation :

- (a) Input devices
- (b) Output devices
- (c) Storage devices
- (d) Processing devices

3) These devices are used to store data and programs

- (a) Input devices
- (b) Output devices
- (c) Storage devices
- (d) Processing devices

Q: WHO AM I? pg: 9,10,11,12

Recognize the devices according to their function?


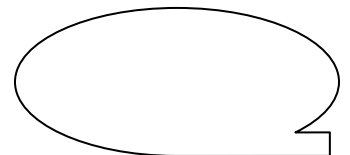
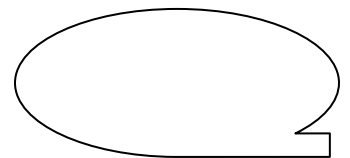
**Monitor,
microphone,**

**keyboard ,
speaker,**

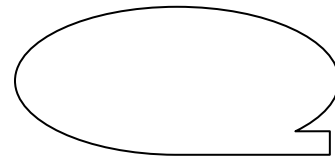
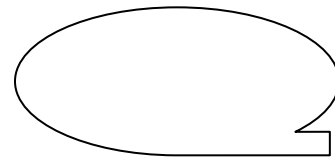
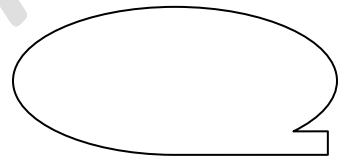
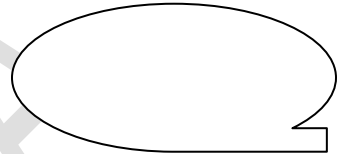
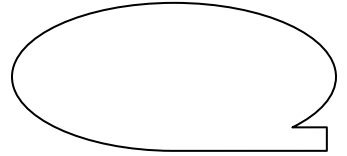
**printer,
mouse,**

**scanner,
digital Camera**

- These provide output in the form of sound.
- It is used to input live and still images into the computer



- These provide output in the form of text or image printed on paper.
- It scans text and illustrations from paper to use in a computer
- These displays the results of your work on its screen.
- It control the movement of the cursor or pointer on the display screen.
- It is used to input sound into the computer.
- It is manually operated input device for entering alphanumeric data and other instructions.



Q: Match the column. Pg;07

(Remember Megahertz (MHz) and Gigahertz (GHz) are the units that describe the processor's speed.)

COLUMN 01

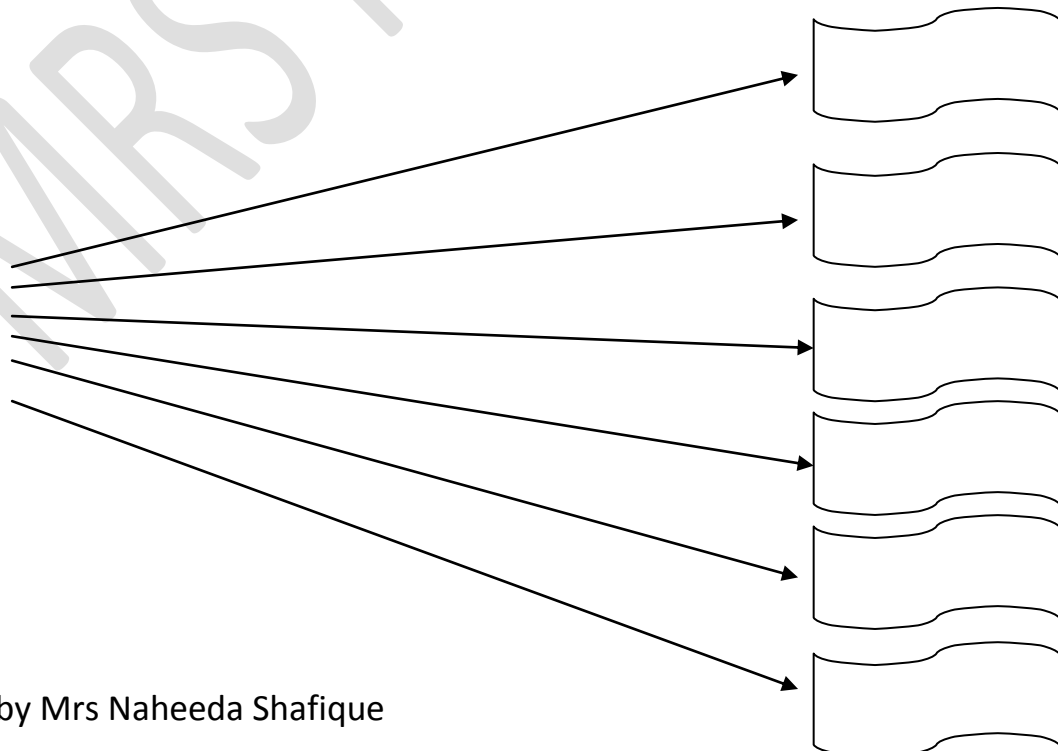
- 1MHz
- 500MHz
- 600MHz
- 550MHz
- 633MHz
- 900MHz
- 800MHz

COLUMN 02

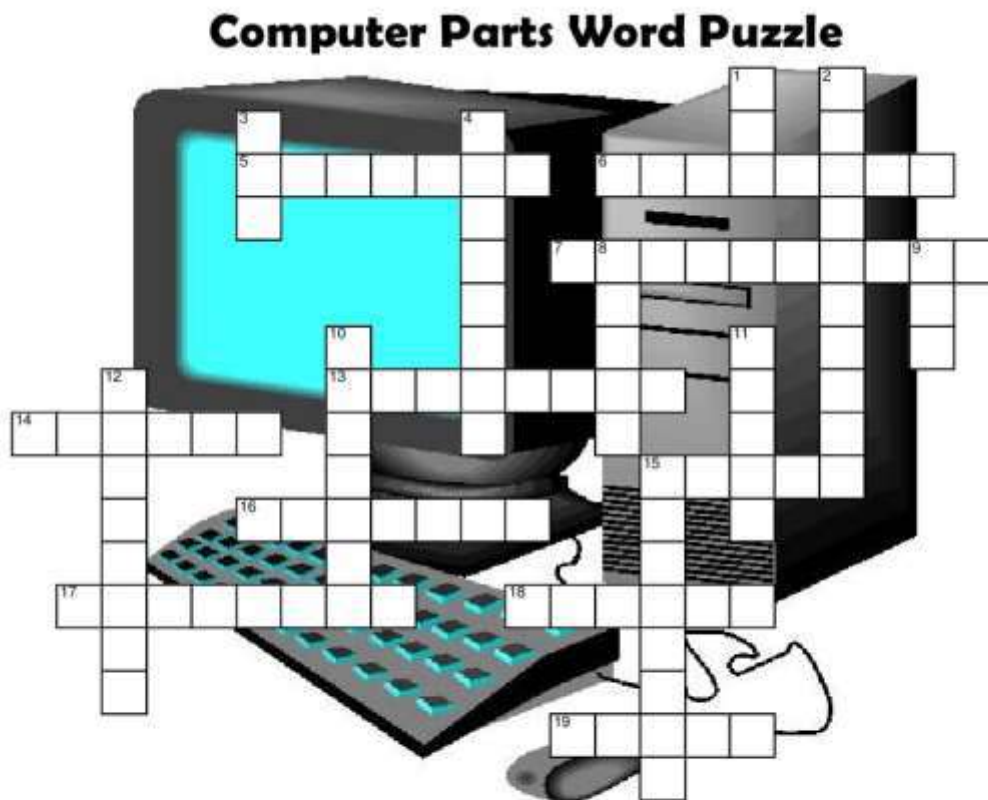
- 0.001 GHz
- 0.8 GHz
- 0.9 GHz
- 0.633 GHz
- 0.6 GHz
- 0.55 GHz
- 0.5GHz

Q: write the different capacities of RAM Chips? (ii) Memory RAM pg: 07

RAM



Q: Complete the Computer's parts word puzzle. This activity is given to check the student's previous knowledge. This activity is given from whole chapter .



KEYBOARD MOUSE SPELLCHECK VIRUS PAINT MOUSEPAD MONITOR CURSOR
 EMAIL GOOGLE CPU HARDWARE SOFTWARE FLASHDRIVE USB CHATting MP3
 MEGABYTE PRINTER SCANNER

Across

5. the machine that lets you put documents and such on paper
6. the tool you use to type words onto the computer
7. the program that checks your spelling
13. talking to other users by typing or using headphones
14. the most popular internet search engine
15. what you use to click things on the screen
16. what is another word for computer screen
17. any physical part of a computer
18. the object on your screen that lets you point at things
19. internet mail

Down

1. a small port on your computer that you can attach drives to
2. a mass storage device that is portable that connects through a USB port
3. music form most played on the computer
4. one of the many different sizes in regards to computers storage
8. a program that lets you draw on your computer
9. the brain of a computer
10. a machine that lets you put paper documents onto your computer
11. a program that destroys your computer system
12. any program on the computer
15. the object that your mouse sits on

Note: Write the answers for the following given questions: page numbers are mentions for your guidance:

Q: What is computer? Name its main parts. Ist paragraph Pg 02

Ans:

- ---
- ---
- ---
- ---

Q: Define Data also explain your answer with example? 1.1 Pg:02

Ans:

**Q: : Define Information also explain your answer by multiplying 5×3 as example.
1.2 pg:02**

Ans:



Multiply 5 by 3

Q: Write the advantages of using computer? any 5. 1.3 Pg:03

Ans:

- ---

- ---

- ---

- ---

- ---

- ---

Q: Differentiate between HARDWARE and SOFTWARE? 2.1 nd 2.2 pg:4,5

Ans:

2.1 HARDWARE (ist nd 3 rd paragraph)	SOFTWARE (ist paragraph)

Q: Define SYSTEM UNIT? 3.1 pg:05

Ans:

Q: Define MOTHER BOARD or SYSTEM BOARD? Ans hint (i) motherboard ----- directly or indirectly.pg:06

Ans:

Q: what is MICROPROCESSOR? (ii) ist 2 paragraphs . pg:06

Ans:

Q: List the Hardware components of computer? 3. Pg:05

Ans:

1: _____

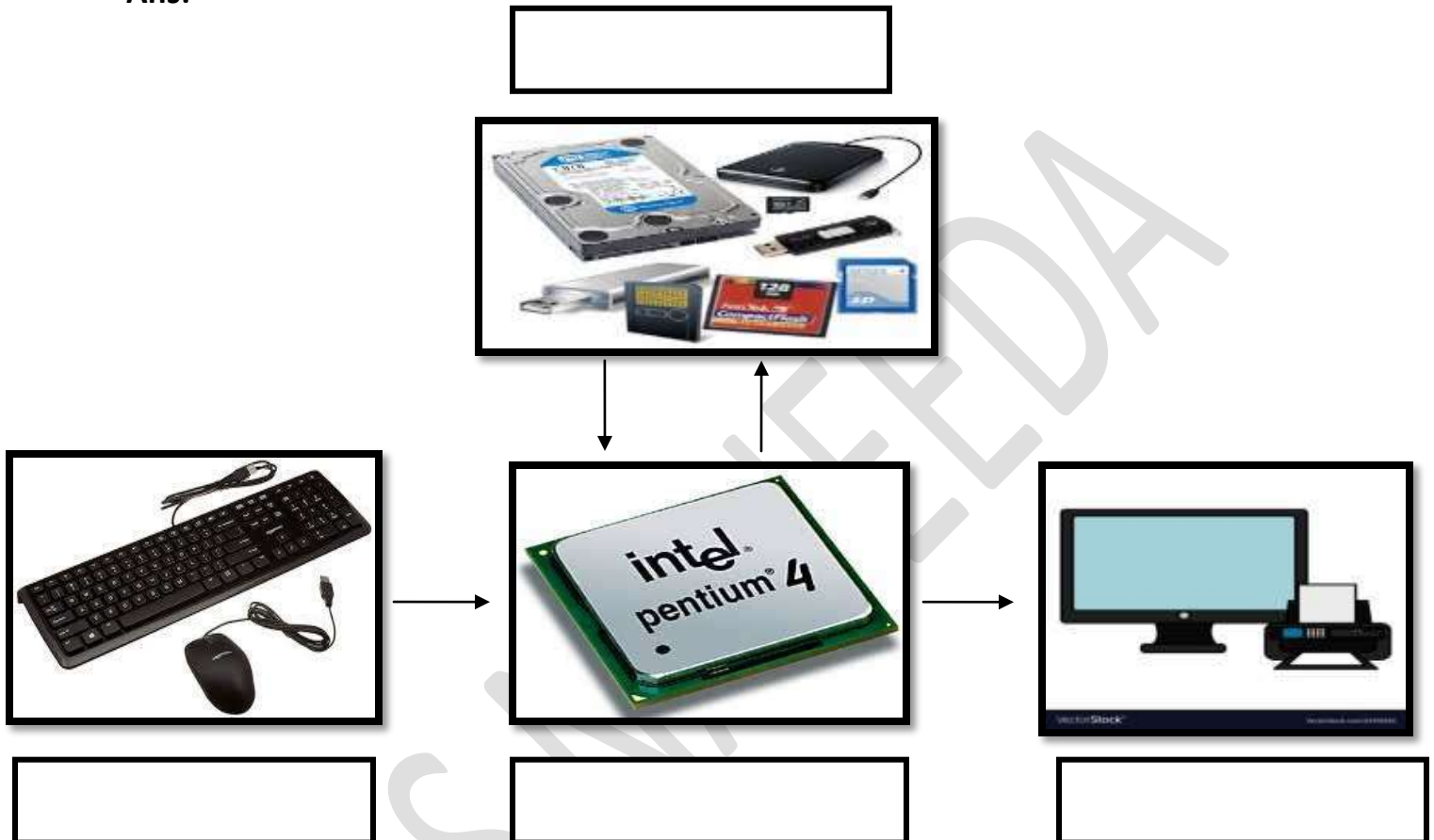
2: _____

3: _____

4: _____

Q: Identify the operations of computer (input, output, processing and Storage).Explain them very shortly. Pg:15,16
Only names and definitions are required.

Ans:



1: _____

2: _____

3: _____

4: _____

Q: write the name of the storage device and its capacity. Pg 13,14,15

Capacities may be

5MB to 140MB,

4.1 GB,

650 MB to 700 MB,

256 MB,512MB,1GB,2GB,4GB,8GB to 24 GB, and 256 GB

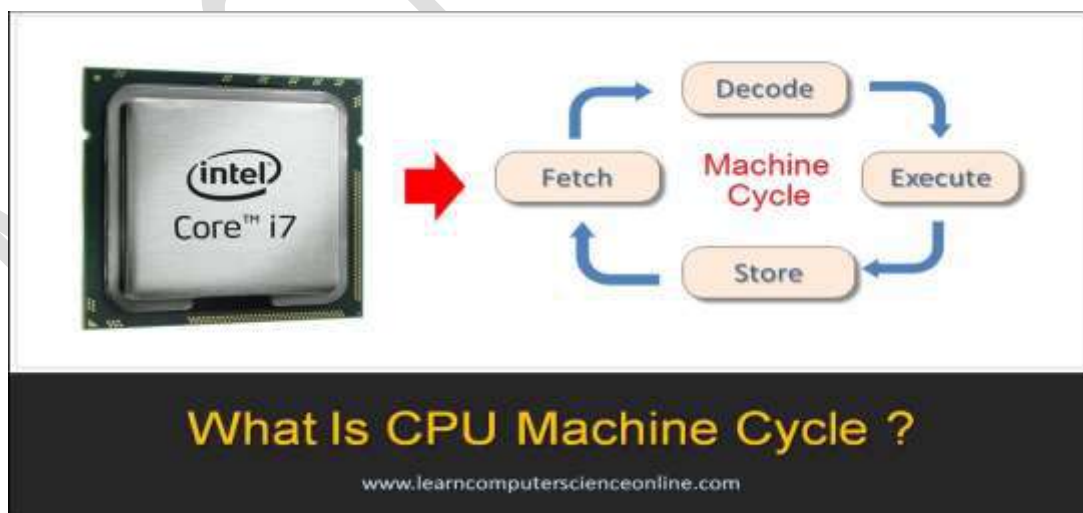
1.5MB to 200 MB

20 GB TO 1000 GB

Storage device	Image	Capacity
		
		
		

Q: Explain the following 4 stages of machine cycle?



1: Fetch

2: **Decode**

3: **Execute**

4: **Store**

-----END-----

باب دوم ایمانیات اور عبادات
(الف) ایمانیات
اللہ تعالیٰ پر ایمان، توحید: معنی اور مفہوم

سوال نمبر 1) درج ذیل میں سے درست جواب کا انتخاب کریں۔

1. اَللّٰهُ اَحَدٌ لِلّٰهِ رَبِّ السَّامِیْنَ کے کیا معنی ہیں؟

- الف: صرف اللہ کی عبادت کرو
ب: سب تعریف اللہ تعالیٰ کے لئے جو تمام مخلوقات
ج: میرے سوا کوئی معبود نہیں
د: اللہ تعالیٰ کے ساتھ کسی کو شریک نہ کرنا
2. اللہ تعالیٰ کی ذات اور صفات میں کسی کو شریک کرنا کہلاتا ہے۔۔۔۔۔

الف: شرک
ب: اخلاص
ج: ایمان کامل
د: نفاق

3. تمام انبیاء علیہم السلام کی تعلیم کا بنیادی مقصد کیا تھا؟

- الف: کسبِ معاش
ب: اللہ تعالیٰ کی ذات و صفات کو جاننا ایمان
ج: جھوٹے نئے پیرا کرنا
د: مثالی معاشرہ تشکیل دینا

4. تحقید توحید انسان میں پیدا کرتا ہے؟

- الف: عاجزی و انکساری
ب: غرور و تکبر
ج: ہزردی
د: کالی

5. اللہ تعالیٰ ہر قسم کے گنہگار کو معاف کر دے گا سوائے؟

- الف: حرام خواہ
ب: والدین کا نافرمان
ج: مشرک
د: کاذب

6. کون سی سورہ مبارکہ میں اللہ تعالیٰ کی وحدانیت کی مکمل وضاحت ہے؟

- الف: سورہ البقرہ
ب: سورہ العصر
ج: سورہ القدر
د: سورہ الاخلاص

7. دَاعِبِدُوا اللّٰهَ حَقَّ تَشْرِیْکُوْا بِہٖ شَیْئًا کا کیا مطلب ہے؟

- الف: اللہ تعالیٰ تمام جہانوں کا خالق ہے۔
ب: اللہ تعالیٰ کی عبادت فرض ہے۔
ج: اور اللہ کی عبادت کرو اور کسی کو شریک نہ بناؤ۔
د: اپنے ہر حاجت میں صرف اللہ کو پکارتو۔

س 2) مختصر جوابات تحریر کریں۔

۱۔ اللہ تعالیٰ پر ایمان کامل ایک انسان کو کس طرح صابر و شاکر بنانا ہے؟

۲۔ انسانی زندگی کی فلاح و کامرانی کا واحد ذریعہ کیا ہے؟

عملی پہلو

۳۔ اللہ تعالیٰ کی ذات پر کامل یقین رکھنے کی ضرورت سب سے زیادہ خود ایک انسان ہی کو ہے کیونکہ وہ ذات تو بے نیاز ہے آپ کس طرح اس یقین کو پختہ بنا سکتے ہیں؟

۱۔ عبادت الہی سے

۲۔ تعلیم القرآن سے

۳۔ والدین اور اساتذہ کی رہنمائی سے (یا)

یہ تمام چیزیں آپ کو عقیدہ توہید میں کامل بنائیں گی وضاحت کریں۔

۱۔ اذان: فضیلت اور اہمیت

نوٹ: درج ذیل میں سے درست جواب کا انتخاب کریں۔

۱۔ اسلامی اصطلاح میں اذان سے کیا مراد ہے؟

الف: مخصوص الفاظ اور لہجہ جو لوگوں (مسلمانوں) نماز کی طرف بلانے کی غرض سے بلند آواز میں ادا کیے جاتے ہیں۔

ب: مسلمانوں کو نماز عید کی ادائیگی کے لیے بلائے کے لئے ادا کیے جاتے ہیں۔

ج: نماز جنازہ کی ادائیگی سے پہلے ادا کئے جاتے ہیں۔

د: مسلمانوں کو دعوتِ دین کے لئے بلانے کے لئے ادا کئے جاتے ہیں۔

۲۔ ہجرتِ مدینہ سے پہلے مسلمان کہاں نماز ادا کرتے تھے؟

الف: مسجد الحرام میں

ب: کسی پہاڑ کی گھاٹی میں تھپ کر

ج: میدانِ عرفات میں

د: مسجد میں

۳۔ کچھ محابہ کر لیں! اللہ عنہم کو اذان کے کلمات سکھائے۔۔۔

الف: اللہ تعالیٰ نے خواب میں

ب: حضرت محمد ﷺ نے

ج: حضرت ابوبکر صدیقؓ نے

د: حضرت جبرائیل علیہ السلام نے

۴۔ حدیثِ مبارکہ کے مطابق اگر لوگوں کو اذان دینے کا ثواب معلوم ہو جائے تو۔۔۔

الف: وہ اذان دینے کے لئے آپس میں جھگڑیں

ب: وہ اذان دینے کے لئے ایک دوسرے پر سبقت

ج: مسجد ہی میں قیام کر لیں

د: کسی بزرگ سے سفارش کروائیں

۵۔ اللہ تعالیٰ کو کون سی بات پسند ہے؟

الف: خاموش رہا جائے

ب: کلام طویل کیا جائے

ج: اُس کے نام کا ذکر عام کیا جائے

د: لوگوں سے اچھے تعلق رکھے جائیں

۶۔ اذان کی آواز سے شیطان کا ردِّ عمل کیا ہوتا ہے؟

الف: خوش ہوتا ہے

ب: خوفزدہ ہو جاتا ہے

ج: ناراض ہوتا ہے

د: ان میں سے کچھ نہیں

۷۔ رسول اللہ صلی اللہ علیہ وآلہ وسلم نے اذان دینے کے لئے کس کو مقرر فرمایا؟

الف: حضرت ابوذر غفاریؓ

ب: حضرت بلالؓ

ج: حضرت علیؓ

د: حضرت زید بن حارثہؓ

س ۲ مختصر جوابات تحریر کریں۔
۱. کیا ہجرت مدینہ سے قبل اذان کی ابتداء ہو چکی تھی؟

۲. ہجرت مدینہ کے بعد اذان کی ضرورت کیوں محسوس کی گئی؟

۳. حضرت محمد صلی اللہ علیہ وآلہ وسلم نے اذان کی تفصیلت کو وائے کرنے کیلئے کیا ارشاد فرمایا؟

عملی : حضور صلی اللہ علیہ وآلہ وسلم کے ارشادات کے مطابق اذان دینے اور سننے کا بے پناہ اجر و ثواب ہے۔ ہم اپنی زندگی میں کس طرح یہ ثواب دارین حاصل کر سکتے ہیں۔

۱. اذان کے وقت خاموش رہا جائے۔
۲. اذان کے کلمات کو دہرایا جائے۔
۳. حضور پروردہ بھیجا جائے۔ ۴. اذان کے بعد مسنون دعا پڑھی جائے۔
- ۵ (یا) ان تمام باتوں پر عمل کیا جائے؟ واضح کریں۔

نماز : اہمیت و فقیلت اور فرائض

نوٹ : درست جواب کا انتخاب کریں .

۱. اللہ تعالیٰ نے انسان کو کیوں پیدا کیا ہے ؟

الف : اپنی عبادت کے لیے .
ب : دنیا کی سیاحت کے لیے
ج : والدین کی
د :

۲. تمام انبیاء علیہم السلام نے کس بات کی تلقین کی ہے ؟

الف : جہاد
ب : خدمتِ خلق
ج : غار
د : حصولِ علم

۳. حدیث مبارکہ مکمل کریں، جس نے نماز قائم کی اس نے

الف : اللہ تعالیٰ کو راضی کیا
ب : دین قائم کیا
ج : حضورؐ کو خوش کیا
د : خود کو محفوظ کر لیا .

۴. تیامت کے دن سب سے پہلے کس سے بارے میں سوال کیا جائے گا ؟

الف : وقت
ب : مال
ج : اعمال
د : نماز

۵. تکبیرِ ترمہ کے معنی کیا ہیں ؟

الف : حرام قرار دینا
ب : اللہ تعالیٰ کی بڑائی بیان کرنا اور حرام قرار دینا
ج : اللہ تعالیٰ کی بڑائی بیان کرنا
د : ان میں سے کچھ نہیں .

۶. ”اقیموا الصلوة واؤا الزکوٰۃ“ کے کیا معنی ہیں ؟

الف : اللہ کے سوا کوئی عبادت کے لائق نہیں .
ب : نماز اور زکوٰۃ کے ذریعہ اللہ کو راضی کرو .
ج : اور نماز قائم کرو اور زکوٰۃ ادا کرو .
د : نماز دین کا ستون ہے .

۷. پانچ مرتبہ ایک صوف میں کنڑھے سے کنڑھا ملا کر کھڑے ہونے سے

الف : دکھ دور ہو جاتے ہیں .
ب : امیر اور غریب کا فرق مٹ جاتا ہے .
ج : مال صاف سقرا ہو جاتا ہے .
د : سکون حاصل ہو جاتا ہے .

۸. نماز میں تعدہ کی حالت میں کیا پڑھایا جاتا ہے ؟

الف : سُبْحَانَ رَبِّيَ الْعَظِيمِ
ب : سُبْحَانَ رَبِّيَ الْأَعْلَى
ج : اَشْهَدُ اَنْ لَا اِلَهَ اِلَّا اللّٰهُ وَ اَشْهَدُ اَنَّ مُحَمَّدًا عَبْدُهُ وَرَسُولُهُ

نماز : اہمیت و فقیلت اور فرائض

نوٹ : درست جواب کا انتخاب کریں .

۱. اللہ تعالیٰ نے انسان کو کیوں پیدا کیا ہے ؟

الف : اپنی عبادت کے لیے .
ب : دنیا کی سیاحت کے لیے
ج : والدین کی
د :

۲. تمام انبیاء علیہم السلام نے کس بات کی تلقین کی ہے ؟

الف : جہاد
ب : خدمتِ خلق
ج : غار
د : حصولِ علم

۳. حدیث مبارکہ مکمل کریں، جس نے نماز قائم کی اس نے

الف : اللہ تعالیٰ کو راضی کیا
ب : دین قائم کیا
ج : حضورؐ کو خوش کیا
د : خود کو محفوظ کر لیا .

۴. تیامت کے دن سب سے پہلے کس سے بارے میں سوال کیا جائے گا ؟

الف : وقت
ب : مال
ج : اعمال
د : نماز

۵. تکبیرِ ترمہ کے معنی کیا ہیں ؟

الف : حرام قرار دینا
ب : اللہ تعالیٰ کی بڑائی بیان کرنا اور حرام قرار دینا
ج : اللہ تعالیٰ کی بڑائی بیان کرنا
د : ان میں سے کچھ نہیں .

۶. ”اقیموا الصلوة واؤا الزکوٰۃ“ کے کیا معنی ہیں ؟

الف : اللہ کے سوا کوئی عبادت کے لائق نہیں .
ب : نماز اور زکوٰۃ کے ذریعہ اللہ کو راضی کرو .
ج : اور نماز قائم کرو اور زکوٰۃ ادا کرو .
د : نماز دین کا ستون ہے .

۷. پانچ مرتبہ ایک صوف میں کنڑھے سے کنڑھا ملا کر کھڑے ہونے سے

الف : دکھ دور ہو جاتے ہیں .
ب : امیر اور غریب کا فرق مٹ جاتا ہے .
ج : مال صاف سچرا ہو جاتا ہے .
د : سکون حاصل ہو جاتا ہے .

۸. نماز میں تعدہ کی حالت میں کیا پڑھایا جاتا ہے ؟

الف : سُبْحَانَ رَبِّيَ الْعَظِيمِ
ب : سُبْحَانَ رَبِّيَ الْأَعْلَى
ج : اَشْهَدُ اَنْ لَا اِلَهَ اِلَّا اللّٰهُ وَاَشْهَدُ اَنَّ مُحَمَّدًا عَبْدُهُ وَرَسُولُهُ

س نمبر 2۔ مختصر جوابات تحریر کریں۔

۱۔ اللہ تعالیٰ نے یہ پوری کائنات کس کے لیے پیدا کی ہے ؟

۲۔ نماز کی اہمیت کو واضح کرنے کے لیے نبی اکرم ﷺ کا کیا ارشاد ہے۔

۳۔ نماز کس طرح اللہ تعالیٰ کے قرب کا ذریعہ ہے ؟

۴۔ ”سجدہ“ کا کیا مطلب ہے ؟

سوال: ”حنور نے فرمایا ہے کہ جس نے جان بوجھ کر نماز چھوڑی اُس نے کفر کیا“ اور نماز ہر مسلمان پر فرض ہے سب سے پہلے کی عمر سے بچے کو نماز کی ادائیگی کی تلقین کرنا چاہیے اور دس سال کی عمر سے بچے کو نماز نہ پڑھنے کی صورت میں والدین کو بچوں کو سرزنش کرنی چاہیے تاکہ اللہ تعالیٰ کی معرفت اور قرب حاصل ہو سکے ؟

آپ کس طرح خود کو پانچ وقت کا نمازی بنانے کی کوشش کریں گے واضح کریں

نوٹ: درست جواب کا انتخاب کریں۔

1. مسلمانوں کو مکہ مکرمہ سے ہجرت کے یوئے کتنے سال گزر چکے تھے؟

الف: 5 سال ب: 6 سال

ج: 10 سال د: 2 سال

2. رسول اللہ صلی اللہ علیہ وآلہ وسلم نے کیا خواب دیکھا؟

الف: آپ غار ادا غمرانے میں۔ ب: آپ اور صحابہ کرام رحمہم اللہ مسجد حرام میں داخل ہوئے۔

ج: میدان جنگ کبیرف روانہ ہوئے۔ د: مسجد کی تعمیر فرماتے ہیں۔

3. آپ کے ساتھ کتنے صحابہ کرام رضی اللہ عنہم روانہ ہوئے؟

الف: 1200 ب: 1400

ج: 900 د: 1000

4. حضورؐ اور صحابہ کرام رضی اللہ عنہم کون سی تاریخ کو عمرہ ادا کرنے کے لئے روانہ ہوئے؟

الف: دس وجب ب: 9 محرم الحرام

ج: یکم ذیقعدہ چھ بجری۔ د: یکم ذیقعدہ پانچ بجری۔

5. کتنا دگی جانب سے مسلمانوں کا راستہ کس نے روکا؟

الف: ابو جہل ب: خالد بن ولید

ج: ابوسفیان د: سہیل بن عمرو

6. مسلمانوں کو کس نے یہ خبر دی کہ قریش مسلمانوں کو مکہ میں داخل نہیں ہونے دے گا؟

الف: بکیر بن ورقاء رضی اللہ عنہ ب: سہیل بن عمرو

ج: عروہ بن مسعود د: حضرت زید بن حارثہ

7. رسول اللہ صلی اللہ علیہ وآلہ وسلم نے کفار مکہ کی طرف کس کو اپنا خصوصی

سفیر بنا کر بھیجا؟

الف: حضرت عمر فاروق رضی اللہ عنہ ب: حضرت ابو بکر صدیق رضی

ج: حضرت علی رضی د: حضرت عثمان غنی رضی

8. صلح حدیبیہ کے بعد مسلمانوں نے کب خیبر کو فتح کر لیا؟

الف: 7ھ ب: 8ھ

ج: 9ھ د: 10ھ

س ۲ مختصر جوابات تحریر کریں ۔
۱۔ رسول اللہ صلی اللہ علیہ وآلہ وسلم نے کیا خواب دیکھا ؟

۲۔ محابہ کرام رضی اللہ عنہم یہ خواب سن کر خوش کیوں ہوئے ؟

۳۔ قریش کی جانب سے خالد بن ولید نے کتنے لوگوں کے ساتھ میلانوں کا
راسہ روکا ۔ ؟

۴۔ قبیلہ خزاعہ کے رئیس کون تھے ؟ انھوں نے مسلمانوں کو کیا خبر دی ۔

۵۔ بیعت رضوان کسے کہتے ہیں ؟

۶۔ صلح حدیبیہ سے ہمیں کیا سبق ملتا ہے ؟

جماعت ششم

اساتذہ کرام کے حقوق

اسلامیاتیات

اس آیت کا ترجمہ لکھیں

س

إِنَّمَا بُعِثْتُ مُعَلِّمًا .

ج

ترجمہ :-

استاد کے تین حقوق لکھیں .

س

ج

استاد کو احترام کیسے کرنا چاہیے ؟

س

ج

(ورک شیٹ ۹) ۱۶ طہارت و پاکیزگی

جماعت

1۔ اسلام دین ہے

الف۔ تیار ہونے کا

ج۔ امن کا

ب۔ غسل کرنے کا

د۔ طہارت و پاکیزگی کا

2۔ انسان خوب صورت اور تندرست رہ سکتا ہے

الف۔ آرام کرنے سے

ج۔ کھانے سے

ب۔ پاکیزگی اور صفائی سے

د۔ زیادہ کام کرنے سے

3۔ طہارت حقیقہ ہے

الف۔ ایمان کا

ج۔ اسلام کا

ب۔ نماز کا

د۔ روزے کا

4۔ رسول اللہ صلی اللہ علیہ وآلہ وسلم غسل کرنے کی تلقین فرمائی۔

الف۔ جمعے کے روز کا

ج۔ اتوار کے روز

ب۔ ہفتے کے روز

د۔ بدھ کے روز

5۔ بڑھے ہوئے ناخن کا ٹٹنا سنت ہے۔

الف۔ حضرت موسیٰ علیہ السلام کی

ج۔ حضرت محمد کی

ب۔ تمام انبیاء علیہم السلام کی

د۔ حضرت ابراہیم علیہ السلام کی

6۔ حضور صلی اللہ علیہ وآلہ وسلم ہر نماز کے موقع پر کرتے

الف۔ وضو

ج۔ غسل

ب۔ مسواک

د۔ وقت اور مسواک

7۔ کس چیز کو جنور ایمان قرار دیا گیا ہے

الف۔ نیکی

ج۔ کھائی

ب۔ صفائی

د۔ مزدوری

مندرجہ ذیل سوالات کے جوابات تحریر کریں

سوال نمبر ۱۔ طہارت کے کیا معنی ہیں

سوال نمبر 2۔ طہارت کے بارے میں ایک آیت لکھیں؟

سوال نمبر 3۔ روح کی طہارت سے کیا مراد ہے؟

سوال نمبر 4۔ طہارت و صفائی کے کوئی سے تین فوائد لکھیں؟

سوال نمبر 5۔ طہارت کے بارے میں ایک حدیث لکھیں؟ -

WORKSHEET

02

SUBJECT: COMPUTER

FOR

CLASS VI

MRS NAHEEDA SHAFIQUE

WORKING WITH WINDOWS

Q1: Choose the correct answer from the given options:

- 1) What recognizes input from the keyboard and other input devices .
 - (a) modem
 - (b) desktop
 - (c) Windows
 - (d) monitor
- 2) The arrow head that moves on the screen when you move the mouse is called:
 - (a) Right click
 - (b) Pointer / cursor
 - (c) Scroll wheel
 - (d) Processing devices
- 3) Where is the **start** button located on the desktop.
 - (a) On the title bar
 - (b) On the upper right corner
 - (c) On the lower right corner
 - (d) On the lower left corner
- 4) The bar just below the title bar is called .
 - (a) Menu bar
 - (b) Tool bar
 - (c) Scroll bar
 - (d) Status bar
- 5) What has name and extension:
 - (a) Folder
 - (b) directory
 - (c) Sub folder
 - (d) file
- 6) Windows provide _____ interface
 - (a) picture
 - (b) Graphic user
 - (c) Command line

(d) Text

7) Folders are also called:

- (a) directories
- (b) files
- (c) drives
- (d) words

8) A folder inside another folder is called.

- (a) file
- (b) folder
- (c) Sub folder
- (d) Sub program

9) Different pictures on the desktop are called:

- (a) icons
- (b) Task bar
- (c) Start button
- (d) tool bar

10) _____ provides the user a plat form to work on:

- (a) keyboard
- (b) mouse
- (c) printer
- (d)

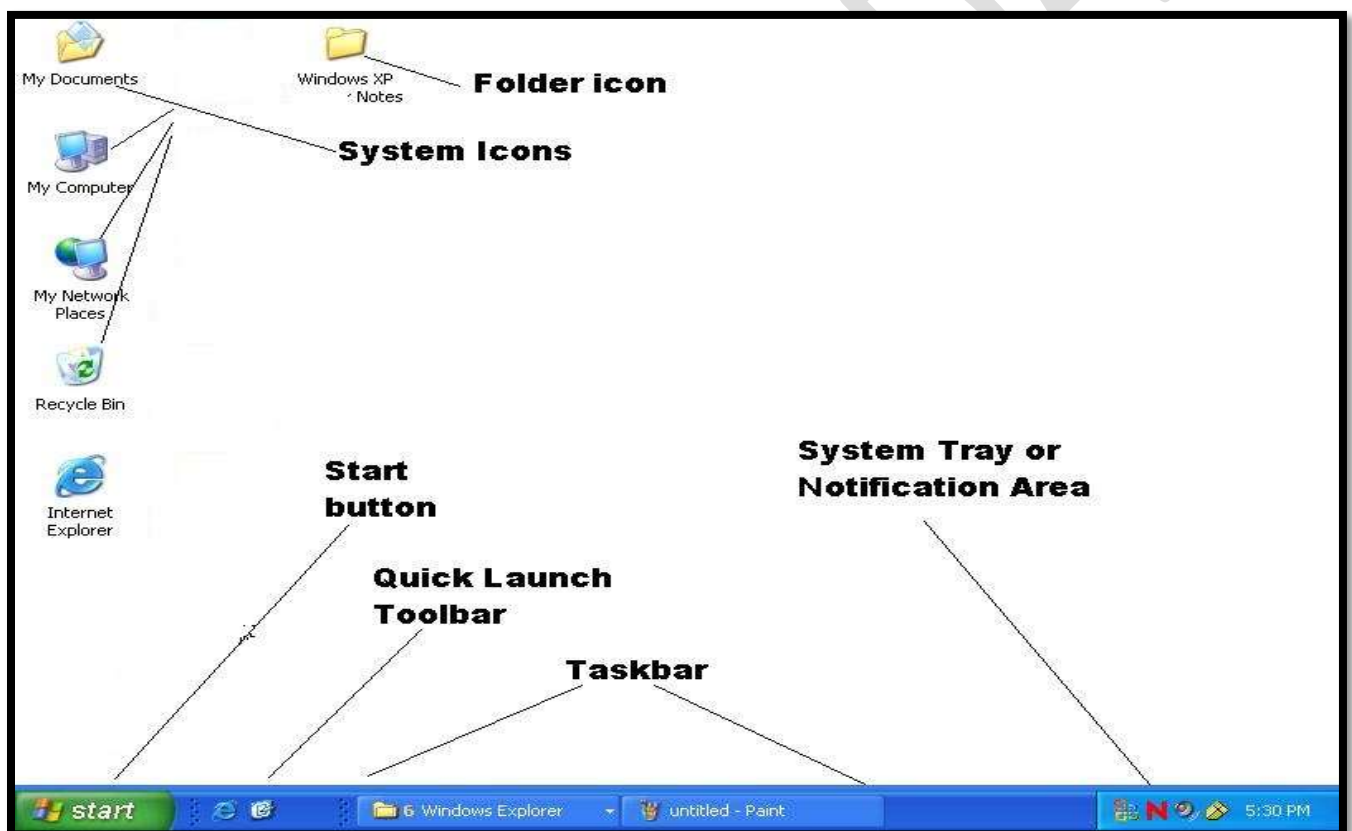
Desktop



Q: WHO AM I? pg: 23,24,25

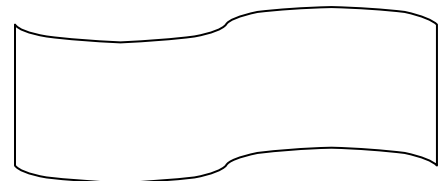
Recognize the elements of Windows XP desktop according to their function?

Following picture is given for your help.

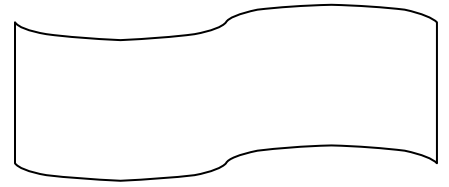


You have to think carefully then fill the names in the boxes.

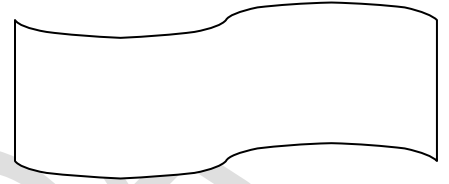
- After starting Windows ,you see this area
With different pictures on your computer.



- These are different pictures (graphical image) on the desktop to denotes different programs.



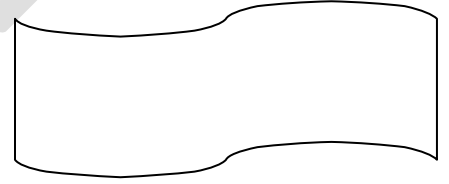
- This is the horizontal bar on the bottom of the desktop.



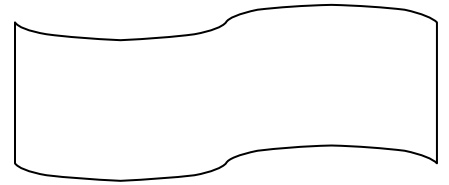
- This button is on the left corner of the desktop.



- This is the area on the extreme right of the taskbar That display Clock and some shortcuts for volume And other application.







- Like the buttons in the notification area , there are some buttons on the area a little away from left hand side of the task bar.




Q: Write the name of the icon of the desktop also write their purpose or use.




Pg:25

Name	Image	Purpose
		
		
		
		

Q: Identify the desktop elements.pg 24,25



Q: Identify and describe the windows control buttons.pg:30

Name	Shape	Purpose
		
		
		

Note: Write the answers for the following given questions: page numbers are mentions for your guidance:

Q: What is the use of the mouse? 4.1 (ist paragraph) Pg:23

Also write its functions name.(only name)Pg:24

Ans:

- _____
- _____
- _____
- _____
- _____

Q: What is Windows ? can your computer run without it? Pg:22 (1.0perating system and windows Ist paragraph)

Ans:

Q: Differentiate between File and Folder with their definition. Pg: 31

Ans:

FILE (1st paragraph only)	FOLDER (full paragraph)

Q:What functions are performed by windows? Write any 5. Pg:22 (1.1)

Ans:

- _____

- ---

- ---

- ---

- ---

Q: Define the following bars.pg: 28,29

Ans: Title bar

Menu bar

Tool bar

Status bar

Scroll bar

Key for mcqs and exercise from book

Q: choose the correct answers .worksheet + book exercise

1. c
2. b
3. d
4. a
5. d
6. b
7. a
8. c
9. a
10. d

Q: Fill in the blanks . exercise only answers are given for your help.

1. Notification
2. Pop-up menu
3. Maximize/ Restore
4. Explore
5. Folder
6. Recycle bin

Q: True / False

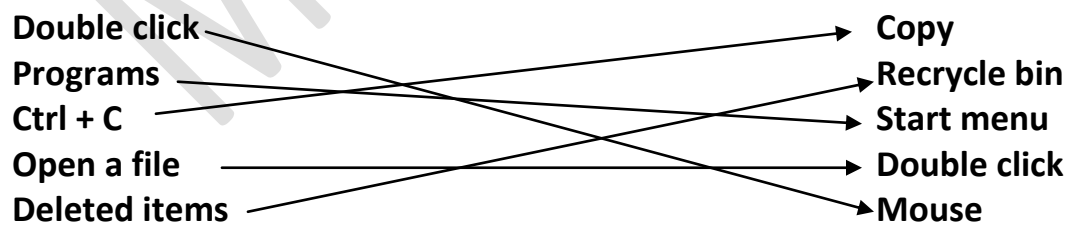
Ans:

- 1: F 2: F 3: T 4: T 5: F

Q: Match columns. exercise

Column A

Column B



END

MRS NAHEEDA